

No part of this product may be reproduced in any form or by any electronic or mechanical means, including information storage and retrieval systems, without written permission from the IB.

Additionally, the license tied with this product prohibits commercial use of any selected files or extracts from this product. Use by third parties, including but not limited to publishers, private teachers, tutoring or study services, preparatory schools, vendors operating curriculum mapping services or teacher resource digital platforms and app developers, is not permitted and is subject to the IB's prior written consent via a license. More information on how to request a license can be obtained from <http://www.ibo.org/contact-the-ib/media-inquiries/for-publishers/guidance-for-third-party-publishers-and-providers/how-to-apply-for-a-license>.

Aucune partie de ce produit ne peut être reproduite sous quelque forme ni par quelque moyen que ce soit, électronique ou mécanique, y compris des systèmes de stockage et de récupération d'informations, sans l'autorisation écrite de l'IB.

De plus, la licence associée à ce produit interdit toute utilisation commerciale de tout fichier ou extrait sélectionné dans ce produit. L'utilisation par des tiers, y compris, sans toutefois s'y limiter, des éditeurs, des professeurs particuliers, des services de tutorat ou d'aide aux études, des établissements de préparation à l'enseignement supérieur, des fournisseurs de services de planification des programmes d'études, des gestionnaires de plateformes pédagogiques en ligne, et des développeurs d'applications, n'est pas autorisée et est soumise au consentement écrit préalable de l'IB par l'intermédiaire d'une licence. Pour plus d'informations sur la procédure à suivre pour demander une licence, rendez-vous à l'adresse <http://www.ibo.org/fr/contact-the-ib/media-inquiries/for-publishers/guidance-for-third-party-publishers-and-providers/how-to-apply-for-a-license>.

No se podrá reproducir ninguna parte de este producto de ninguna forma ni por ningún medio electrónico o mecánico, incluidos los sistemas de almacenamiento y recuperación de información, sin que medie la autorización escrita del IB.

Además, la licencia vinculada a este producto prohíbe el uso con fines comerciales de todo archivo o fragmento seleccionado de este producto. El uso por parte de terceros —lo que incluye, a título enunciativo, editoriales, profesores particulares, servicios de apoyo académico o ayuda para el estudio, colegios preparatorios, desarrolladores de aplicaciones y entidades que presten servicios de planificación curricular u ofrezcan recursos para docentes mediante plataformas digitales— no está permitido y estará sujeto al otorgamiento previo de una licencia escrita por parte del IB. En este enlace encontrará más información sobre cómo solicitar una licencia: <http://www.ibo.org/es/contact-the-ib/media-inquiries/for-publishers/guidance-for-third-party-publishers-and-providers/how-to-apply-for-a-license>.

Economía
Nivel Superior
Prueba 2

Jueves 7 de noviembre de 2019 (mañana)

1 hora 30 minutos

Instrucciones para los alumnos

- No abra esta prueba hasta que se lo autoricen.
- En esta prueba no se permite el uso de ninguna calculadora.
- Sección A: conteste una pregunta.
- Sección B: conteste una pregunta.
- Utilice gráficos correctamente rotulados e incluya referencias al texto/los datos donde corresponda.
- La puntuación máxima para esta prueba de examen es **[40 puntos]**.

Sección A

Conteste **una** pregunta de esta sección.

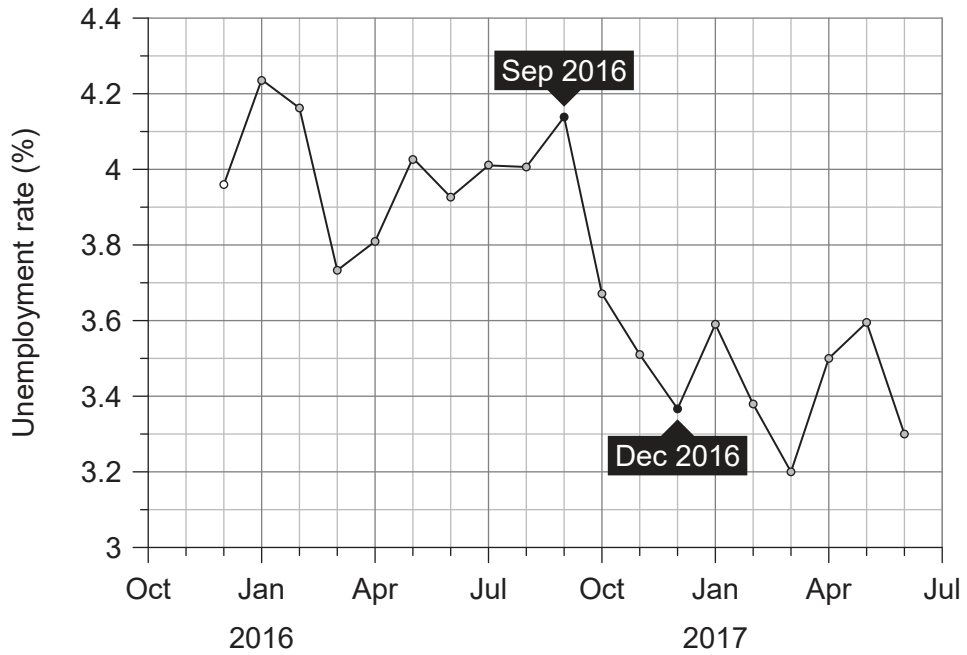
1. Lea detenidamente el siguiente fragmento y los datos y conteste todas las partes de la pregunta que figuran a continuación.

Texto eliminado por motivos relacionados
con los derechos de autor

(Esta pregunta continúa en la página siguiente)

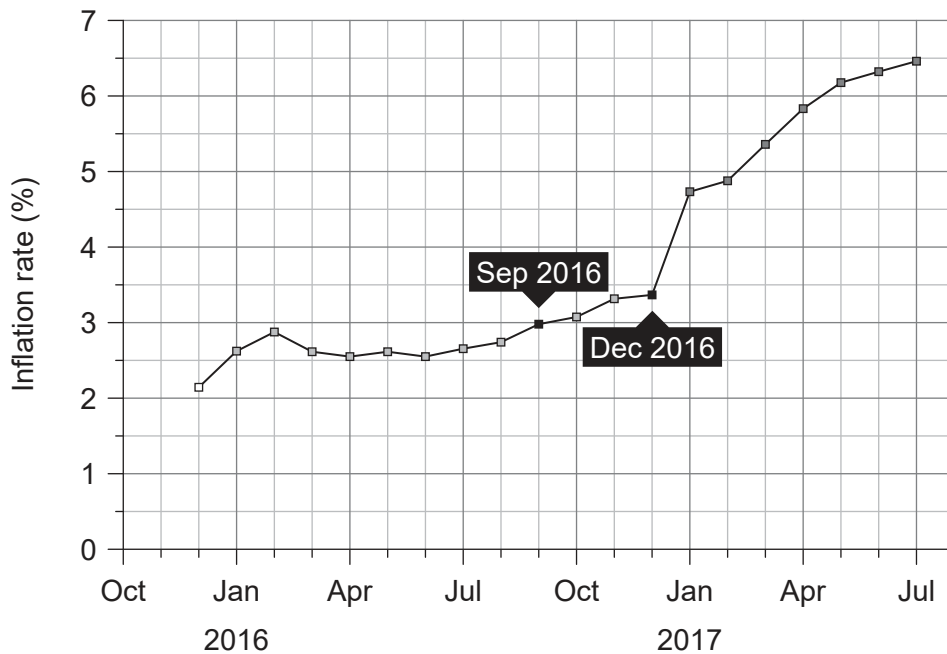
(Pregunta 1: continuación)

Figura 1: Tasa de desempleo de México



[Fuente: adaptado de <https://tradingeconomics.com>, consultado el 12 de agosto de 2017]

Figura 2: Tasa de inflación de México



[Fuente: adaptado de <https://tradingeconomics.com>, consultado el 12 de agosto de 2017]

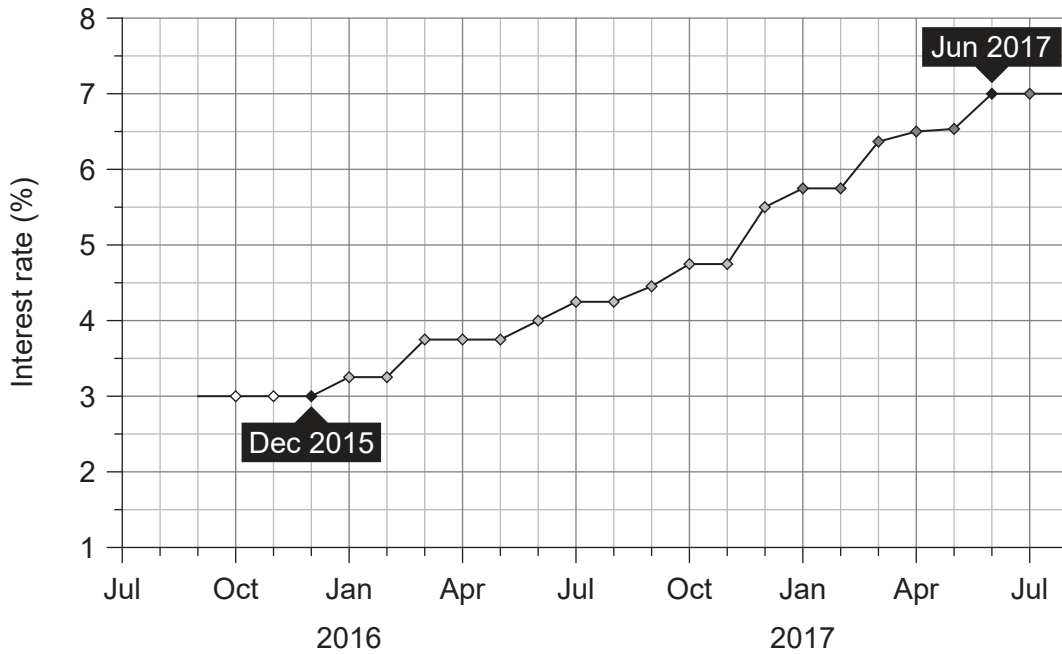
(Esta pregunta continúa en la página 5)

Véase al dorso

Página en blanco

(Pregunta 1: continuación)

Figura 3: Tipo de interés de México



[Fuente: adaptado de <https://tradingeconomics.com>, consultado el 12 de agosto de 2017]

- (a) (i) Defina el término **tipo de cambio**, que está marcado en negrita en el texto (párrafo ❶). [2]
- (ii) Defina el término **guerra comercial**, que está marcado en negrita en el texto (párrafo ❶). [2]
- (b) Utilizando los datos de la **figura 1** y la **figura 2** para crear un gráfico de la curva de Phillips, explique la relación entre la tasa de desempleo y la tasa de inflación entre septiembre y diciembre de 2016. [4]
- (c) Dado que México tiene déficit en cuenta corriente, explique por qué “Un rápido aumento de la inversión extranjera directa (IED) redujo la dependencia de México de la inversión de cartera, que ha sufrido una disminución” (párrafo ❸). [4]
- (d) Utilizando la información del texto/los datos y su conocimiento de la economía, discuta las posibles consecuencias para la economía mexicana de que el peso mexicano esté subvaluado. [8]

Véase al dorso

2. Lea detenidamente el siguiente fragmento y los datos y conteste todas las partes de la pregunta que figuran a continuación.

Aumento en el déficit en cuenta corriente de Turquía

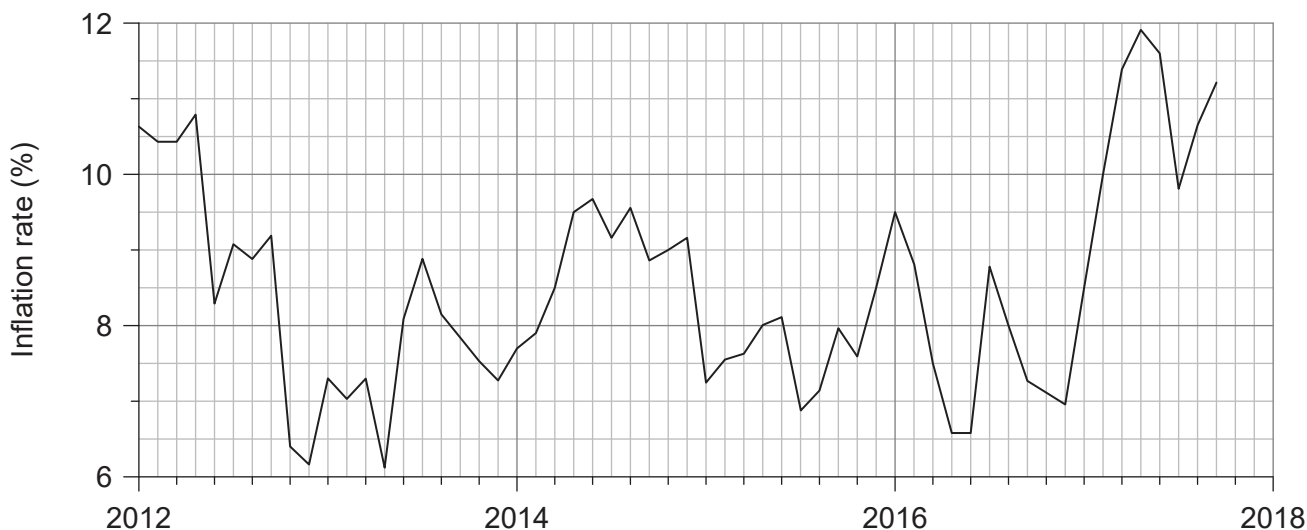
- ❶ Según los pronósticos del Fondo Monetario Internacional (FMI), se prevé que el déficit en cuenta corriente de Turquía aumente del 4,4 % del producto interno bruto (PIB) en 2016 al 5,6 % del PIB en 2017, con una disminución del crecimiento del PIB real del 3,3 % en 2016 al 2,9 % en 2017. Se considera que el déficit en cuenta corriente es el mayor problema que enfrenta la economía turca. Una agencia de calificación internacional ha bajado la calificación de riesgo crediticio de Turquía a “negativa” por el agravamiento, en los últimos meses, de los riesgos que amenazan el perfil crediticio del país.
- ❷ La actividad económica se ha visto perjudicada también por varios otros factores, como la incertidumbre política, los conflictos en los países vecinos y la protección comercial ejercida por los países con los que hay un mayor intercambio comercial. Los ingresos que Turquía obtiene del turismo, que representan el 10 % del PIB del país, han sufrido disminuido considerablemente a raíz de la preocupación por la seguridad en relación con ataques terroristas.
- ❸ El déficit en cuenta corriente ha contribuido a una enorme **depreciación** de la lira turca (la moneda del país), que se depreció en un 20 % frente al dólar estadounidense (USD) a lo largo del año anterior. Esto constituye un problema significativo para Turquía, que depende de un ingreso sostenido de inversión extranjera para financiar su déficit en cuenta corriente.
- ❹ Parte del problema radica en la dependencia de Turquía de las importaciones, en especial las de energía. Los costos más altos de las importaciones de energía empeorarán todavía más el déficit en cuenta corriente de Turquía y crearán más presión sobre la inflación (**figura 4**).
- ❺ El Gobierno turco ha culpado del colapso de la moneda a los especuladores. El presidente del país ha pedido ayuda a los ciudadanos. Hay el equivalente a USD 140 000 millones en divisas extranjeras retenidos en cuentas de ahorro turcas en divisas extranjeras. El presidente quiere que los ciudadanos de Turquía usen sus ahorros en divisas extranjeras para apoyar a la lira turca. Sin embargo, los ciudadanos parecen haber hecho caso omiso de ese deseo, pues en septiembre de 2018 adquirieron el equivalente a USD 1000 millones en divisas extranjeras.
- ❻ Los analistas creen que la única solución para la caída del valor de la lira turca y el déficit en cuenta corriente es que el banco central aumente el tipo de interés oficial. No obstante, el presidente de Turquía ha dejado claro que no aceptará tipos de interés más elevados. De hecho, ha exigido tipos de interés más bajos para estimular la economía.

[Fuente: adaptado de ‘Battered: Turkish lira suffers worst year since 2008’, por Mehreen Khan, Markets, FT.COM, 22 de diciembre de 2016, ‘Turks urged to trust in lira to defeat “tyranny of dollar”’, por Mehul Srivastava y Jonathan Wheatley, Markets, FT.COM, 07 de diciembre de 2016, ‘Turkish lira tumbles amid fears on economy and terrorist threat’, por Mehul Srivastava y Roger Blitz, Markets, FT.COM, 12 de enero de 2017, utilizado bajo la licencia del Financial Times. Todos los derechos reservados; Turkey’s Surging Current Account Deficit and Its Impact in 2017, por Market Realist, 21 de abril de 2017: <http://marketrealist.com/2017/04/turkeys-surging-current-account-deficit-and-its-impact-in-2017/>, 21 de abril de 2017; Turkey’s annual current account deficit growth jumps to 68 percent in May, www.intellignews.com, 13 de julio de 2017]

(Esta pregunta continúa en la página siguiente)

(Pregunta 2: continuación)

Figura 4: Tasa de inflación de Turquía



[Fuente: adaptado de <https://tradingeconomics.com>, consultado el 6 de septiembre de 2017]

- (a) (i) Indique **dos** funciones del Fondo Monetario Internacional (FMI) (párrafo ❶). [2]
- (ii) Defina el término **depreciación**, que está marcado en negrita en el texto (párrafo ❸). [2]
- (b) Utilizando un gráfico de DA-OA, explique cómo la dependencia turca de las importaciones de energía está creando “más presión sobre la inflación” (párrafo ❹). [4]
- (c) Utilizando un gráfico del tipo de cambio, explique qué es probable que haya sucedido con la lira turca cuando los ciudadanos de Turquía “adquirieron el equivalente a USD 1000 millones en divisas extranjeras” (párrafo ❺). [4]
- (d) Utilizando la información del texto/los datos y su conocimiento de la economía, discuta las consecuencias del déficit en cuenta corriente persistente de Turquía. [8]

Véase al dorso

Sección B

Conteste **una** pregunta de esta sección.

3. Lea detenidamente el siguiente fragmento y los datos y conteste todas las partes de la pregunta que figuran a continuación.

Desarrollo económico en dos países del África Occidental

Ghana

- ❶ Ghana es el segundo productor mundial de cacao y el segundo productor africano de oro. Representa una de las economías de más rápido crecimiento de África y ha hecho grandes avances hacia el logro de un crecimiento económico persistente.
- ❷ A lo largo de la última década, Ghana ha gozado de unos órganos de gobierno democráticos cada vez más estables y con constantes mejoras. En la década se han realizado con éxito cuatro elecciones, que han consolidado la eficacia de las principales instituciones nacionales, han mejorado la confianza de los inversores y han creado un entorno propicio para la inversión y el crecimiento.
- ❸ En Ghana, los medios de comunicación gozan de gran libertad; la prensa privada y las emisoras operan sin restricciones significativas. Los medios son libres de criticar a las autoridades sin temor a represalias, según sostiene la organización no gubernamental (ONG) Reporteros Sin Fronteras. Se permite a la prensa privada expresar críticas a la política gubernamental, lo que aumenta la necesidad de rendir cuentas y la transparencia del Gobierno.
- ❹ Aunque Ghana ha tenido un crecimiento bastante pronunciado, como fuente de tal crecimiento siempre han predominado los productos básicos y el sector de servicios, que hace un uso intensivo del capital. Ninguno de estos elementos tiene un efecto directo en la reducción de la pobreza. En las zonas rurales, el crecimiento suele verse limitado por las infraestructuras básicas, como los caminos. Esto limita la capacidad de los habitantes de estas áreas rurales de acceder a los mercados de zonas urbanas.

Nigeria

- ❺ Nigeria es el principal productor de petróleo de África. En 2016, tuvo su primer año completo de recesión en 25 años. Los precios mundiales del petróleo alcanzaron su nivel más bajo en 13 años, y la producción petrolera sufrió una drástica reducción. El petróleo ha conservado su papel dominante en el patrón de crecimiento nigeriano, pero la volatilidad del crecimiento dependiente del petróleo impide avanzar en el desarrollo social y económico.
- ❻ En el plano político, se ha aplaudido la transición de una dictadura militar a un régimen democrático como uno de los grandes éxitos de Nigeria en la última década. En el caso de las elecciones generales de 2011, que contaron con el apoyo de las Naciones Unidas, los observadores internacionales y los supervisores nacionales reconocieron que habían sido unas de las elecciones más libres y justas realizadas en el país en los últimos años.

(Esta pregunta continúa en la página siguiente)

(Pregunta 3: continuación)

Ghana y Nigeria

- 7 Tanto Ghana como Nigeria han recortado las subvenciones a los combustibles con el objetivo de reducir el déficit presupuestario. Esto ha tenido graves repercusiones para los hogares de rentas bajas.

Tabla 1: Selección de datos económicos de Ghana y Nigeria

	Ghana	Nigeria
Valor del Índice de Desarrollo Humano (IDH)	0,579	0,527
Puesto según el IDH	140	151
Ingreso nacional bruto (INB) per cápita en términos de paridad del poder adquisitivo (PPA) (2011, USD)	3839	5443
Producto interno bruto (PIB) per cápita en términos de PPA (2011, USD)	3953	5639
Población que vive con menos de USD 1,90 diarios (%)	25,2	53,5
Coefficiente de Gini	0,428	0,430
Esperanza de vida al nacer (años)	61	53
Niños pequeños que recibieron la vacuna contra el sarampión* (% , edad 1 año)	92	51
Gasto público en salud (% del PIB)	2,1	0,9
Expectativa de años de escolaridad	11,5	10
Media de años de escolaridad	6,9	6,0
Tasa de alfabetización de adultos (% , edad 15 años o más)	76,6	59,6

[Fuente: adaptado de *UNDP Ghana country profile* (Ghana: Perfil del país, elaborado por el PNUD), <http://hdr.undp.org>, consultado el 19 de febrero de 2019; *UNDP Nigeria country profile* (Nigeria: Perfil del país, elaborado por el PNUD), <http://hdr.undp.org>, consultado el 19 de febrero de 2019; *About Ghana* (Acerca de Ghana), <http://hdr.undp.org>, consultado el 19 de febrero de 2019; *About Nigeria* (Acerca de Nigeria), <http://hdr.undp.org>, consultado el 19 de febrero de 2019]

* sarampión: una enfermedad sumamente contagiosa que constituye una de las principales causas de muerte entre los niños pequeños

(Esta pregunta continúa en la página 11)

Véase al dorso

Página en blanco

(Pregunta 3: continuación)

- (a) (i) Indique el motivo de la diferencia entre el INB per cápita de Ghana y su PIB per cápita (**tabla 1**). [2]
- (ii) Defina el término *coeficiente de Gini*, que está marcado en negrita en la **tabla 1**. [2]
- (b) Utilizando un gráfico de externalidades, explique por qué el porcentaje de niños pequeños que recibe la vacuna contra el sarampión en Nigeria indica que existe una falla de mercado (**tabla 1**). [4]
- (c) Utilizando un gráfico de oferta y demanda, explique cómo el recorte en las subvenciones a los combustibles puede haber tenido “graves repercusiones para los hogares de rentas bajas” (párrafo 7). [4]
- (d) Utilizando la información del texto/los datos y su conocimiento de la economía, compare y contraste el nivel de desarrollo económico de Ghana y Nigeria. [8]

4. Lea detenidamente el siguiente fragmento y conteste todas las partes de la pregunta que figuran a continuación.

Crecimiento económico en Camboya

- ❶ Camboya se ha convertido en una de las economías de Asia de más rápido crecimiento; recientemente, el Banco Mundial le ha otorgado la calificación de país de renta media-alta.
- ❷ El fomento de las exportaciones ha ayudado a Camboya a crecer. El país ha utilizado mano de obra de bajo costo para fabricar productos para la exportación. A esto ha contribuido el hecho de que el precio de la mano de obra ha mostrado un aumento en China y otros países asiáticos. La gran oferta de mano de obra de bajo costo y bajo nivel de cualificación de Camboya ha atraído grandes volúmenes de inversión extranjera directa (IED) para la producción de ropa y calzado para la exportación, lo que ha contribuido al **crecimiento económico** del país. El año pasado se observó en Camboya un aumento del 10,2% en la exportación de ropa y calzado, que representan el 70% de las exportaciones del país.
- ❸ En todo el territorio de Asia, cientos de millones de personas han salido de la pobreza gracias a los puestos de trabajo en el sector manufacturero, que les permitieron educar mejor a sus niños y darles así una vida mejor.
- ❹ Sin embargo, la competitividad de Camboya en el sector manufacturero se enfrenta al desafío que le plantean otros países de la región, en particular los que fabrican ropa de bajo costo. También puede que surjan problemas debido a un reciente aumento del salario mínimo. Los representantes del sector han manifestado su preocupación de que la industria de la confección pueda perder inversores, que pueden marcharse para encontrar lugares más baratos, si el salario mínimo sigue aumentando.
- ❺ Camboya necesita diversificar todavía más su economía si desea mantener las elevadas tasas de crecimiento que ha logrado en los últimos años. En pos de la **diversificación**, el Gobierno ha puesto en marcha una política de desarrollo industrial que se propone lograr que el sector manufacturero pase de la fabricación de bajo costo y uso intensivo de mano de obra a una producción con un mayor valor agregado. La política fomenta la expansión y modernización de las pequeñas y medianas empresas, una regulación más estricta con una aplicación más efectiva y un mejor entorno para hacer negocios.
- ❻ Persisten algunos desafíos que hay que abordar. Uno de ellos es la creciente desigualdad —hay una desigualdad de renta entre las zonas urbanas y rurales—, además de una desigualdad de género. Las mujeres siguen viéndose en desventaja a la hora de obtener acceso a la educación superior, las oportunidades de empleo bien remuneradas y los puestos públicos con poder de toma de decisiones.

(Esta pregunta continúa en la página siguiente)

(Pregunta 4: continuación)

7 Alrededor de 30 000 jóvenes camboyanos se incorporan cada año a la fuerza laboral, pero a menudo no cuentan con las destrezas necesarias para satisfacer las necesidades del mercado laboral. Aunque una gran proporción de la población está empleada, muchos puestos de trabajo son informales, vulnerables, inestables y están mal pagados. Hay una necesidad crítica de abordar los problemas en educación y formación, y de ayudar a los niños a completar su escolaridad. El 98 % de los niños de Camboya asisten a la escuela primaria, pero muchos abandonan por falta de fondos. Solo el 30 % de los jóvenes completan los estudios secundarios.

8 El rápido crecimiento económico y de la población de Camboya está causando una importante contaminación ambiental. Los ecologistas han señalado que la fabricación de ropa es una de las cuatro actividades principales del sector industrial que contribuyen considerablemente a la contaminación del aire y el agua.

[Fuente: adaptado de Here Comes Cambodia: Asia's New Tiger Economy, Asian Development Bank, 10 de mayo de 2016, <https://www.adb.org/news/features/here-comes-cambodia-asia-s-new-tiger-economy>]

- (a) (i) Defina el término *crecimiento económico*, que está marcado en negrita en el texto (párrafo 7). [2]
- (ii) Defina el término *diversificación*, que está marcado en negrita en el texto (párrafo 8). [2]
- (b) Utilizando un gráfico de oferta y demanda, explique por qué el aumento en el salario mínimo podría afectar la competitividad de Camboya en el sector de fabricación de ropa frente a otros países de la región (párrafo 4). [4]
- (c) Utilizando un gráfico de externalidades, explique por qué la industria de la confección es una fuente de falla de mercado (párrafo 8). [4]
- (d) Utilizando la información del texto/los datos y su conocimiento de la economía, evalúe el fomento de las exportaciones como estrategia para lograr el desarrollo económico en Camboya. [8]